

التحولات السريعة و التحولات البطيئة

Transformations lentes et transformations rapides




1-1-1 نشاط:

نصب في أنبوب اختبار $5mL$ من محلول نترات الفضة $Ag^+(aq) + NO_3^-(aq)$ ، وندخل فيه سلكا نظيفا من النحاس . بعد لحظات ، تظهر سلكيات ذات بريق فلزي حول سلك النحاس وتلون المحلول باللون الأزرق .
 أ- ماذا تلاحظ ؟ كيف تفسر هذه الملاحظات ؟
 ب- حدد النوع الكيميائي الذي يلعب دور المؤكسد والنوع الكيميائي الذي يلعب دور المختزل ، واستنتج المزدوجات مختزل / مؤكسد المتدخلة في هذا التفاعل .
 ج- استنتج معادلة التفاعل بين أيونات الفضة وفلز النحاس .

1-1-3 نشاط:

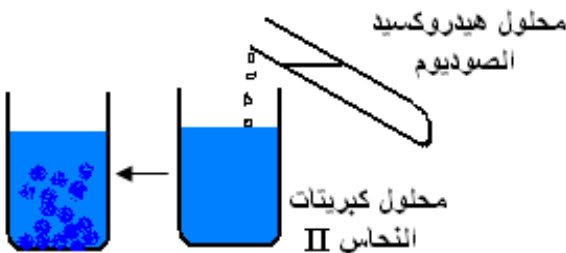
نصب في أنبوبي اختبار (1) و (2) ، $10,0 mL$ من محلول حمض الأوكساليك $H_2C_2O_4(aq)$ تركيزه $0,50 mol/L$. نترك الأنبوب (1) في درجة حرارة $20^\circ C$ ، والأنبوب (2) في درجة حرارة $40^\circ C$. نضيف في نفس اللحظة، إلى الأنبوبين $5mL$ من محلول برمنغنات البوتاسيوم $K^+(aq) + MnO_4^-(aq)$ ، فنلاحظ:




أ- اكتب معادلة التفاعل الحاصل . نعطي $MnO_4^-(aq) / Mn^{2+}(aq)$ و $H_2C_2O_4(aq) / CO_2(g)$
 ب- ماذا تلاحظ ؟
 ج- ماذا تستنتج ؟

1-1-2 نشاط:

نصب في كأس $20 mL$ من محلول كبريتات النحاس II ، ثم نضيف إليه $10 mL$ من الصودا .
 أ- ماذا تلاحظ ؟ وما اسم المركب الناتج ؟
 ب- اكتب معادلة التفاعل الحاصل .
 ج- هل يمكن تتبع هذا التفاعل بالعين المجردة ؟ ماذا تستنتج ؟



**1-2-2- نشاط :**

نمزج في كأس 50 mL من محلول يودور البوتاسيوم تركيزه $0,20 \text{ mol/L}$ و 50 mL من الماء الأوكسيجيني تركيزه $0,01 \text{ mol/L}$ ، محمض ب حمض الكبريتيك .

أ- ماذا يحدث للخليط خلال الزمن ؟


ب- كيف تفسر هذه الملاحظات ؟ ماذا تستنتج ؟

ج- اكتب معادلة تفاعل أكسدة - اختزال الحاصل .

1-2-3- نشاط :

نصب في الكأس (1) 20 mL من محلول ثيوكبريتات الصوديوم $2\text{Na}^+(\text{aq}) + \text{S}_2\text{O}_3^{2-}(\text{aq})$ تركيزه $0,1 \text{ mol.L}^{-1}$ ، ونصب في الكأس (2) 20 mL من محلول ثيوكبريتات الصوديوم $2\text{Na}^+(\text{aq}) + \text{S}_2\text{O}_3^{2-}(\text{aq})$ تركيزه $0,05 \text{ mol.L}^{-1}$.

نضيف في الكأسين ، في نفس اللحظة ، 20 mL من محلول كلورور الهيدروجين تركيزه $0,1 \text{ mol.L}^{-1}$. نسلط حزمة من الضوء الأبيض على محتوى الكأس فنلاحظ النتائج التالية :



أ- ماذا تلاحظ ؟ وماذا تستنتج ؟

ب- اكتب معادلة التفاعل الحاصل بين المزدوجات : $\text{S}_2\text{O}_3^{2-}(\text{aq}) / \text{S}(\text{s})$ و $\text{SO}_2(\text{aq}) / \text{S}_2\text{O}_3^{2-}(\text{aq})$.